



PREFEITURA MUNICIPAL DE NOVA TIMBOTEUA

CONCURSO PÚBLICO - PROVA OBJETIVA: 13 de dezembro de 2015

NÍVEL FUNDAMENTAL COMPLETO

**AGENTE EPIDEMIOLÓGICO, MOTORISTA DE VEÍCULOS LEVES,
MOTORISTA DE VEÍCULOS PESADOS, OPERADOR DE MÁQUINAS E
IMPLEMENTOS AGRÍCOLAS, OPERADOR DE MÁQUINAS PESADAS**

Nome do Candidato: _____

Nº de Inscrição: _____

Assinatura

INSTRUÇÕES AO CANDIDATO

1. Confira se a prova que você recebeu corresponde ao cargo/nível de escolaridade ao qual você está inscrito, conforme consta no seu cartão de inscrição e cartão-resposta. Caso contrário comunique imediatamente ao fiscal de sala.
2. Confira se, além deste BOLETIM DE QUESTÕES, você recebeu o CARTÃO-RESPOSTA, destinado à marcação das respostas das questões objetivas.
3. Este BOLETIM DE QUESTÕES contém a Prova Objetiva com 30 (trinta) questões, sendo 15 de Português e 15 de Matemática. Caso exista alguma falha de impressão, comunique imediatamente ao fiscal de sala. Na prova há espaço reservado para rascunho. **Esta prova terá duração de 04 (quatro) horas, tendo seu início às 14h30min e término às 18h30min (horário local).**
4. Cada questão objetiva apresenta 04 (quatro) opções de resposta, identificadas com as letras (A), (B), (C) e (D). Apenas uma responde adequadamente à questão, considerando a numeração de 01 a 30.
5. Confira se seu nome, número de inscrição, cargo de opção e data de nascimento, consta na parte superior do CARTÃO-RESPOSTA que você recebeu. Caso exista algum erro de impressão, comunique imediatamente ao fiscal de sala, a fim de que o fiscal registre no formulário de Correção de Dados a devida correção.
6. O candidato deverá permanecer, obrigatoriamente, no local de realização da prova por, no mínimo, uma hora após o início da prova. A inobservância acarretará a eliminação do concurso.
7. É obrigatório que você assine a LISTA DE PRESENÇA e o CARTÃO-RESPOSTA do mesmo modo como está assinado no seu documento de identificação.
8. A marcação do CARTÃO-RESPOSTA deve ser feita somente com caneta esferográfica de tinta preta ou azul, pois lápis não será considerado.
9. A maneira correta de marcar as respostas no CARTÃO-RESPOSTA é cobrir totalmente o espaço correspondente à letra a ser assinalada, conforme o exemplo constante no CARTÃO-RESPOSTA.
10. Em hipótese alguma haverá substituição do CARTÃO-RESPOSTA por erro do candidato. A substituição só será autorizada se for constatada falha de impressão.
11. O CARTÃO-RESPOSTA deverá ser devolvido ao final da sua prova, pois é o único documento válido para o processamento de suas respostas.
12. O candidato só poderá levar o BOLETIM DE QUESTÕES 1 hora (60 minutos) antes do término da prova, caso termine antes, deverá devolver juntamente com o CARTÃO-RESPOSTA.
13. Será automaticamente eliminado do Concurso Público da Prefeitura Municipal de Nova Timboteua o candidato que durante a realização da prova descumprir os procedimentos definidos no Edital nº 001/2015/PMNT do referido concurso.

Boa Prova.

FAD ESP

PORTUGUÊS

Leia com atenção os textos a seguir para responder às questões de 1 a 15.

Texto 1 – Questões 1 a 8

Há que celebrar

Denise Fraga

1 Minha avó gostava de festa. Minha mãe gosta de festa. Eu gosto de festa.
2 Quando penso em dar uma festa, meu coração se anima. Muitas vezes, no
3 meio da lista de convidados e acepipes, tenho vontade de desistir diante da
4 trabalhadeira da empreitada.
5 Respiro, lembro das últimas festas que dei, penso na minha avó e na minha
6 mãe em seus mistos de alegria e tensão, e acabo seguindo em frente.
7 Há que comemorar, há que manter os bolos, as velas, os brindes.
8 Há que passar adiante o "Parabéns pra Você", mesmo que no meio da
9 canção tudo pareça engraçado e sem sentido. Vale a pena. Nunca me
10 arrependi de dar uma festa. No mínimo, fico feliz de ver meus vários afetos
11 misturados em minha casa, conversando entre si, se juntando em tranças
12 que retornam ao novelo do meu coração.
13 Não sei direito o porquê, mas tenho especial prazer em ver o namorado da
14 filha da minha amiga em papo animado com a minha sogra, por exemplo.
15 Improváveis misturas humanas a partir de mim. Foi assim que meu pai fez
16 amizade com a mãe do segundo marido de minha mãe.
17 Tuta era uma senhora sacudida. Sempre de salto alto, se maquiava muito,
18 punha flores no cabelo, fazia discursos, cantava e tocava piano.
19 Tinha passado a maior parte da vida longe da família e foi resgatada por
20 minha mãe, que, inconformada e antes tarde do que nunca, decidiu
21 presentear seu marido com o reencontro emocionado com a mãe
22 desgarrada. Tuta passou, então, a frequentar as festas da família.
23 Conviveu com o filho, a nova nora e os parentes que pouco conhecia
24 durante algum tempo até que Fernando se foi. Viúva, minha mãe herdou de
25 seu amado a mãe excêntrica, que continuou a fazer seus discursos, a tocar
26 e a cantar nas festas lá de casa até seus 98.
27 Um tempo depois da morte de Fernando, meu pai voltou a frequentar as
28 festas. Também afeito à cantoria, se juntou a Tuta nas canções e até
29 declamavam poesias. Em uma festa de aniversário que ela promoveu em
30 seu pequeno apartamento na Tijuca, minha mãe deu de cara com uma cena
31 curiosa: os dois sozinhos na sala. Tuta ao piano e meu pai já exibindo pela
32 janela sua linda voz de tenor. Numa manobra do destino, meu pai virou
33 grande amigo da mãe do segundo marido de minha mãe.
34 A vida faz um bom crochê. As festas ajudam. Há que celebrar.

Disponível em: <http://www1.folha.uol.com.br/colunas/denisefraga/2015/07/1656787-ha-que-celebrar.shtml>.

Acesso em: 11 nov. 2015.

1. Em “Há que celebrar”, Denise Fraga conta uma história para
- (A) criticar as relações entre pessoas que viveram vários casamentos.
 - (B) explicar como tornar mais fácil a empreitada de oferecer uma festa.
 - (C) defender a necessidade de realizar festas em que as pessoas possam fazer discursos e declamar poemas.
 - (D) mostrar que a convivência entre pessoas de diferentes idades e graus de parentesco é possível e enriquecedora.

2. No texto, a autora destaca, entre as razões pelas quais gosta de fazer festas, a possibilidade de
- (A) manter a tradição dos discursos e do canto.
 - (B) misturar diferentes pessoas com talento para a poesia e a música.
 - (C) se estabelecerem relacionamentos inesperados entre os convidados.
 - (D) evitar o misto de alegria e nervosismo que antecede a realização do evento.
3. O enunciado em que **não há** referência ao motivo pelo qual vale a pena dar festas é
- (A) “meu pai virou grande amigo da mãe do segundo marido de minha mãe” (l. 32-33).
 - (B) “ver o namorado da filha da minha amiga em papo animado com a minha sogra” (l. 13-14)
 - (C) “Há que passar adiante o “Parabéns pra Você”, mesmo que no meio da canção tudo pareça engraçado e sem sentido” (l. 8-9).
 - (D) “Viúva, minha mãe herdou de seu amado a mãe excêntrica, que continuou a fazer seus discursos, a tocar e a cantar nas festas lá de casa” (l. 24-26).
4. Há uma passagem predominantemente descritiva em:
- (A) “Sempre de salto alto, se maquiava muito, punha flores no cabelo, fazia discursos, cantava e tocava piano” (l.17-18).
 - (B) “Conviveu com o filho, a nova nora e os parentes que pouco conhecia durante algum tempo até que Fernando se foi” (l. 23-24).
 - (C) “Há que passar adiante o ‘Parabéns pra Você’, mesmo que no meio da canção tudo pareça engraçado e sem sentido. Vale a pena” (l. 8-9).
 - (D) “Não sei direito o porquê, mas tenho especial prazer em ver o namorado da filha da minha amiga em papo animado com a minha sogra” (l. 13-14).
5. Em “Há que comemorar, há que manter os bolos” (l. 7), a expressão “há que + verbo no infinitivo” indica
- (A) procedimento.
 - (B) tempo decorrido.
 - (C) existência, ocorrência.
 - (D) necessidade, obrigação.
6. No fragmento “A vida faz um bom crochê” (l. 34), além da metáfora, ocorre também
- (A) antítese.
 - (B) metáfora.
 - (C) hipérbole.
 - (D) prosopopeia.
7. A reescrita **alterou** o sentido original do texto em
- (A) “Também afeito à cantoria” (l. 28) = Também habituado à cantoria.
 - (B) “Tuta era uma senhora sacudida” (l. 17) = Tuta era uma senhora bem disposta.
 - (C) “herdou de seu amado a mãe excêntrica” (l. 24-25) = herdou de seu amado a mãe conservadora.
 - (D) “no meio da lista de convidados e acepipes” (l. 2-3) = no meio da lista de convidados e iguarias.
8. No trecho “e até declamavam poesias” (l. 28-29), o verbo “declamar”, no plural, concorda com
- (A) “poesias”.
 - (B) “meu pai e Tuta”.
 - (C) “Fernando e Tuta”.
 - (D) “Fernando, meu pai e Tuta”.

Texto 2 – Questões 9 a 12

Ninho cheio

1 Quem disse que a vida adulta começa quando se deixa a casa dos
2 pais? Já faz tempo que a antes tão valorizada saída do ninho vem sendo
3 postergada por filhotes não tão filhotes assim. Mais precisamente, uma
4 década: foi por volta de 2005 que os demógrafos detectaram em boa parte do
5 mundo, no Brasil inclusive, um contingente significativo de jovens com idade
6 entre 25 e 34 anos, aqui chamados de “cangurus”, que continuavam
7 usufruindo a mesma casa, comida e roupa lavada da adolescência. O
8 fenômeno não só continua como se espalhou e agora encosta nos quarentões.
9 Ao contrário de seus antecessores, que em geral permanecem no ninho
10 porque ainda estudam ou buscam um rumo na vida, esses “pós-cangurus” têm,
11 sim, emprego e situação financeira confortável. Mas, desfrutando de
12 liberdades e mordomias inexistentes na geração de seus pais, não veem por
13 que sair da casa deles. No chamado “ciclo da vida”, esse era o passo para
14 virar gente grande, mas, dizem estudiosos do fenômeno, o ciclo mudou: a vida
15 adulta agora é bem menor, espremida entre uma juventude e uma velhice
16 muito mais prolongadas.

17 Segundo dados colhidos pela Pesquisa Nacional por Amostra de
18 Domicílio (Pnad), existe no Brasil 1,7 milhão de pessoas entre 35 e 39 anos
19 morando na casa dos pais – um salto de 23% na proporção desse contingente
20 sobre 2004. [...]

Cecília Ritto

Ninho cheio. *Veja*, São Paulo, ano 48, n. 46, p. 78, 18 nov. 2015.

9. Da leitura do texto “Ninho cheio”, pode-se depreender que, atualmente,
- (A) muitos quarentões adiam a conclusão dos estudos para evitar sair da casa dos pais.
 - (B) os jovens “cangurus” têm pressa em começar a vida adulta, mesmo que seja longe da casa dos pais.
 - (C) embora trabalhem e ganhem bem a vida, muitos adultos tendem, cada vez mais, a continuar abrigados no ninho paterno.
 - (D) um grande número de jovens com idade entre 25 e 34 anos abre mão das liberdades e mordomias do lar paterno para viver a vida adulta.
10. No enunciado “Já faz tempo que a antes tão valorizada saída do ninho vem sendo postergada” (l. 2-3), o verbo “postergar” significa
- (A) adiar.
 - (B) descuidar.
 - (C) depreciar.
 - (D) desprezar.
11. Em “O fenômeno não só continua como se espalhou” (l. 7-8), a locução “não só ... como” exprime a ideia de
- (A) adição.
 - (B) oposição.
 - (C) explicação.
 - (D) consequência.
12. O adjetivo “menor”, no trecho “a vida adulta agora é bem menor” (l. 14-15), foi flexionado no grau
- (A) comparativo de inferioridade.
 - (B) superlativo absoluto analítico.
 - (C) superlativo absoluto sintético.
 - (D) comparativo de superioridade.

O que é bom sempre volta

Marcelo Levites

- 1 O mundo mudou. Isso é um fato incontestável. A tecnologia – essa danada
2 – é uma das grandes responsáveis por essa mudança. A forma como as
3 pessoas se relacionam (essencialmente por mensagens), como pagam
4 suas contas, como escutam música, conversam e até como fazem sexo
5 mudou.
6 Em contrapartida, há um movimento de retorno às coisas boas, que são
7 chamadas retrô. É o caso das comidas orgânicas (sem agrotóxicos), as
8 comidas de rua, a troca de brinquedos entre as crianças, o disco de vinil, as
9 brincadeiras de crianças nas festas infantis etc.
10 Um costume do passado que agora ganhou outra roupagem são as
11 reuniões em família para cozinhar. Em outros tempos a comida sempre era
12 produzida pela mãe. Hoje, ao contrário, os maridos ocuparam os fogões e a
13 cozinha e fazem maravilhas para a família toda. Com direito a elogios. [...]

Disponível em: <http://vida-estilo.estadao.com.br/blogs/viva-mais-e-melhor/o-que-e-bom-sempre-volta/>. Acesso em: 16 nov. 2015.
[adaptado]

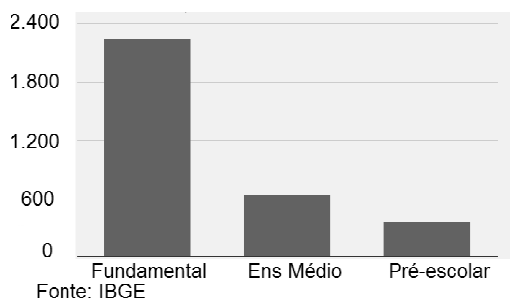
13. Da leitura do texto de Marcelo Levites, pode-se depreender que, modernamente,
(A) fazer refeições em família está fora de moda.
(B) a tecnologia impossibilitou a comunicação entre as pessoas.
(C) está-se tentando reabilitar hábitos e costumes mais saudáveis.
(D) os homens passaram a substituir as mulheres nos cuidados com as crianças.
14. No trecho “Em contrapartida”, há um movimento de retorno às coisas boas (l. 6), a locução sublinhada tem o mesmo sentido de
(A) se bem que.
(B) além do mais.
(C) à proporção que.
(D) em compensação.
15. No que concerne aos fatos de língua, é correto afirmar que
(A) os travessões nas linhas 1 e 2 destacam uma citação.
(B) a palavra “brinquedos” tem igual número de letras e fonemas.
(C) a letra “x” representa o mesmo fonema em “agrotóxicos” e “sexo”.
(D) os vocábulos “há”, “é” e “retrô” são acentuados por serem monossílabos tônicos.

RASCUNHO

MATEMÁTICA

16. O gráfico abaixo apresenta o número de alunos matriculados em Nova Timboteua no ano de 2012.

Matrículas de alunos em Nova Timboteua - 2012



De sua análise é possível afirmar que o número de alunos matriculados em Nova Timboteua, em 2012, no Ensino

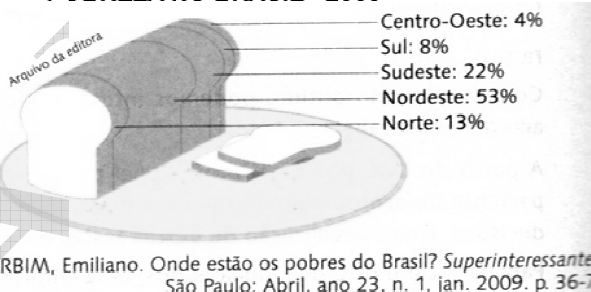
- (A) Médio representa mais de 50% do total.
- (B) Fundamental representa mais de 50% do total.
- (C) Pré-Escolar representa mais de 50% do total.
- (D) Médio representa menos de 10% do total.

17. Uma motocicleta pode ser adquirida a prazo, pagando-se R\$ 280,00 de entrada mais 24 parcelas de R\$180,00, ou à vista com 10% de desconto, quando passaria a custar

- (A) R\$ 4.600,00.
- (B) R\$ 4.280,00.
- (C) R\$ 4.140,00.
- (D) R\$ 4.000,00.

18. Observe o gráfico abaixo:

POBREZA NO BRASIL - 2009



Com base nesse gráfico, é correto afirmar que em 2009 havia mais pobreza na região

- (A) Nordeste do que no resto do Brasil.
- (B) Norte do que na região Nordeste.
- (C) Norte do que na região Sudeste.
- (D) Sul do que na região Sudeste.

19. O consumo de energia elétrica de uma geladeira, em 10 horas de uso, é de 0,35kw. Em 10 dias de uso, essa geladeira terá consumido

- (A) 8,2kw.
- (B) 8,4kw.
- (C) 8,6kw.
- (D) 8,8kw.

20. Um grupo de vinte pessoas foi de Belém para Nova Timboteua. Um grupo de ônibus, cuja passagem custou R\$ 20,00, e outras de van, pagando R\$ 17,00. Se no total gastaram R\$ 379,00 pelo transporte, quantas pessoas desse grupo foram de van?

- (A) 13.
- (B) 10.
- (C) 9.
- (D) 7.

O PAGAMENTO DO PIS (PROGRAMA DE INTEGRAÇÃO SOCIAL) 2015/2016, ESTÁ OCORRENDO SEGUNDO A TABELA ABAIXO, QUE DEVE SER UTILIZADA NAS QUESTÕES 21 E 22.

Nascido em	Recebem a partir de	Recebem até
Julho	22/07/2015	30/06/2016
Agosto	20/08/2015	30/06/2016
Setembro	17/09/2015	30/06/2016
Outubro	15/10/2015	30/06/2016
Novembro	19/11/2015	30/06/2016
Dezembro	17/12/2015	30/06/2016
Janeiro/Fevereiro	14/01/2016	30/06/2016
Março/Abril	16/02/2016	30/06/2016
Maió/Junho	17/03/2016	30/06/2016

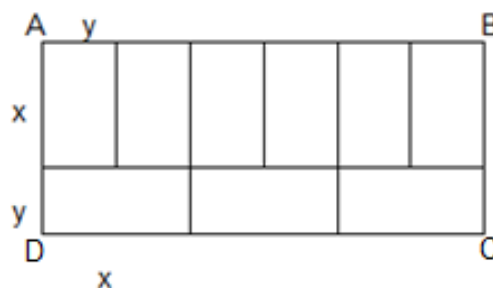
21. Um trabalhador, participante do programa, que nasceu no dia 16 de fevereiro de 1956 deve receber seu PIS a partir do dia

- (A) 19/11/2015.
- (B) 17/12/2015.
- (C) 14/01/2016.
- (D) 16/02/2016.

22. Se uma pessoa recebeu o seu PIS no dia 15 de outubro de 2015, é correto afirmar que ela nasceu

- (A) em outubro.
- (B) entre os dias 01/07 e 31/10.
- (C) depois de 15/10.
- (D) entre os dias 31/10 e 31/12.

23. Em um terreno retangular ABCD, cujo perímetro mede 90m, serão construídas 9 salas retangulares de medidas iguais (comprimento x e largura y), conforme o esboço:



A área do terreno ABCD mede


- (A) 450m^2 .
- (B) 470m^2 .
- (C) 480m^2 .
- (D) 500m^2 .

24. Considere o sinal de multiplicação (x), de adição (+), de subtração (-) e os números da lista abaixo. O número R, que deve ser colocado antes do sinal de igual, de modo que se tenha o resultado mostrado, é

4	x	2	+	3	x	R	=	35
---	---	---	---	---	---	---	---	----

- (A) 10.
- (B) 9.
- (C) 8.
- (D) 7.

25. Na balança abaixo há um peso de 2kg do lado esquerdo e um peso de 5kg do lado direito, acompanhados de esferas (x) de mesmo peso.



O peso de uma esfera (x), que colocada do lado direito equilibrará a balança, deve ser de

- (A) 1kg.
- (B) 1,5kg.
- (C) 2kg.
- (D) 2,5kg.

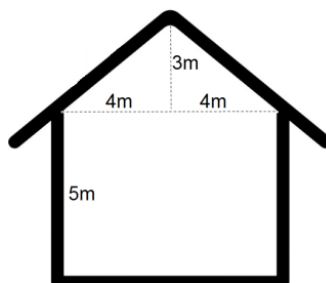
26. Oito metros de um tecido custam R\$ 216,00. Três metros desse tecido custarão

- (A) R\$ 75,00.
- (B) R\$ 78,00.
- (C) R\$ 84,00.
- (D) R\$ 81,00.

27. Um comerciante aumentou em 25% os preços de seus produtos. Como reduziram as vendas, o comerciante resolveu retornar aos preços anteriores e, para tal, teve que reduzi-los em

- (A) 22,5%.
- (B) 22%.
- (C) 20%.
- (D) 25%.

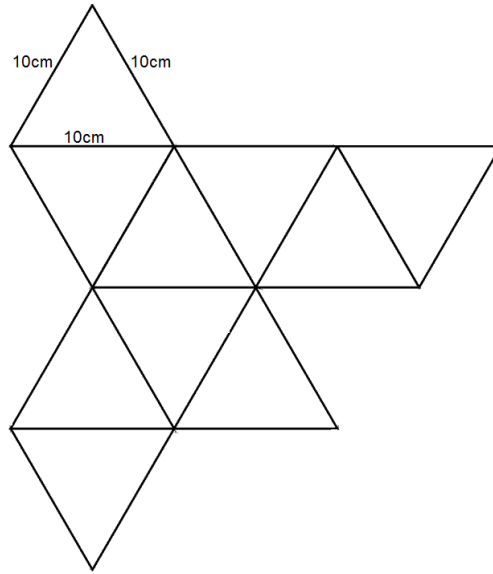
28. A fachada lateral de uma casa é formada internamente por um retângulo e um triângulo, conforme figura esboçada abaixo.



A área desta fachada mede

- (A) 60m².
- (B) 48m².
- (C) 50m².
- (D) 52m².

UTILIZE A FIGURA ABAIXO PARA AS QUESTÕES 29 e 30.



29. A quantidade de triângulos nessa figura é igual a

- (A) 10.
- (B) 11.
- (C) 12.
- (D) 13.

30. Se a medida de cada lado dos triângulos menores medir 10cm, a soma dos perímetros de todos eles será igual a

- (A) 300cm.
- (B) 330cm.
- (C) 360cm.
- (D) 390cm.

RASCUNHO