



PREFEITURA MUNICIPAL DE MONTE ALEGRE

CONCURSO PÚBLICO - PROVA OBJETIVA: 01 de novembro de 2015

NÍVEL ALFABETIZADO

AGENTE DE PORTARIA, AGENTE DE SERVIÇOS URBANOS, AGENTE DE VIGILÂNCIA, AUXILIAR DE ELETRICISTA, AUXILIAR DE MECÂNICO, AUXILIAR OPERACIONAL, CARPINTEIRO, COZINHEIRA, MECÂNICO DE VEÍCULOS, MOTORISTA DE VEÍCULOS LEVES, MOTORISTA DE VEÍCULOS PESADOS, MOTORISTA DE TRANSPORTES COLETIVOS, OPERADOR DE MÁQUINAS PORTÁTIL, OPERADOR DE PÁ MECÂNICA, OPERADOR DE TRATOR DE RODAS, PEDREIRO, SOLDADOR

Nome do Candidato: _____

Nº de Inscrição: _____

Assinatura

INSTRUÇÕES AO CANDIDATO

1. Confira se a prova que você recebeu corresponde ao cargo/nível de escolaridade ao qual você está inscrito, conforme consta no seu cartão de inscrição e cartão-resposta. Caso contrário comunique imediatamente ao fiscal de sala.
2. Confira se, além deste BOLETIM DE QUESTÕES, você recebeu o CARTÃO-RESPOSTA, destinado à marcação das respostas das questões objetivas.
3. Este BOLETIM DE QUESTÕES contém a Prova Objetiva com 20 (vinte) questões, sendo 10 de Língua Portuguesa e 10 de Matemática. Caso exista alguma falha de impressão, comunique imediatamente ao fiscal de sala. Na prova há espaço reservado para rascunho. **Esta prova terá duração de 04 (quatro) horas, tendo seu início às 8:00h e término às 12:00h (horário local).**
4. Cada questão objetiva apresenta 04 (quatro) opções de resposta, identificadas com as letras (A), (B), (C) e (D). Apenas uma responde adequadamente à questão, considerando a numeração de 01 a 20.
5. Confira se seu nome, número de inscrição, cargo de opção e data de nascimento, consta na parte superior do CARTÃO-RESPOSTA que você recebeu. Caso exista algum erro de impressão, comunique imediatamente ao fiscal de sala, a fim de que o fiscal registre na Ata de Sala a devida correção.
6. O candidato deverá permanecer, obrigatoriamente, no local de realização da prova por, no mínimo, uma hora após o início da prova. A inobservância acarretará a eliminação do concurso.
7. É obrigatório que você assine a LISTA DE PRESENÇA e o CARTÃO-RESPOSTA do mesmo modo como está assinado no seu documento de identificação.
8. A marcação do CARTÃO-RESPOSTA deve ser feita somente com caneta esferográfica de tinta preta ou azul, pois lápis não será considerado.
9. A maneira correta de marcar as respostas no CARTÃO-RESPOSTA é cobrir totalmente o espaço correspondente à letra a ser assinalada, conforme o exemplo constante no CARTÃO-RESPOSTA.
10. Em hipótese alguma haverá substituição do CARTÃO-RESPOSTA por erro do candidato. A substituição só será autorizada se for constatada falha de impressão.
11. O CARTÃO-RESPOSTA deverá ser devolvido ao final da sua prova, pois é o único documento válido para o processamento de suas respostas.
12. O candidato só poderá levar o BOLETIM DE QUESTÕES 1 hora (60 minutos) antes do término da prova, caso termine antes, deverá devolver juntamente com o CARTÃO RESPOSTA.
13. Será automaticamente eliminado do Concurso Público da Prefeitura de Monte Alegre o candidato que durante a realização da prova descumprir os procedimentos definidos no Edital nº 001/2015/PMMA do referido concurso.

Boa Prova.

LÍNGUA PORTUGUESA

ASSINALE, COM BASE NA LEITURA DOS TEXTOS A SEGUIR,
A ALTERNATIVA QUE COMPLETA CORRETAMENTE AS QUESTÕES DE 1 A 10.

Texto 1 – questões 1 a 5

Estação café

Pastéis Santa Clara
Bem-casados com ambrosia,
Caramelados com nozes
E bombas de baunilha

Senhora dona doceira,
Me tira dessa agonia!

Mil-folhas e broinhas,
Com geleias e pavê,
Fios de ovos, *apfelstrudel*,
Maçãs flambadas, não vê?
Qual é o doce mais doce?
O doce mais doce? Você!

Pães de queijo, ovos moles,
Olho de sogra, doce de abóbora
Pingos de chuva, algodão doce,
Doce, oh doce senhora!

Senhora dona doceira,
Doce aqui e agora,
E agora, bem no fim,
Eu recuso maria-mole,
Mas nós dois, bem juntim,

Agarradim, rocambolé.
Sérgio Capparelli

CEREJA, W.R.; MAGALHÃES, T. C. Português:
linguagens. São Paulo: Saraiva, 2012, p. 118.

- O poeta está em uma loja de
(A) pães.
(B) frutas.
(C) guloseimas.
(D) alimentos naturais.
- No verso “Me tira dessa agonia”, o poeta se refere ao fato de
(A) preferir os salgados.
(B) não poder comer doces.
(C) ser uma pessoa decidida.
(D) não saber o que escolher.
- Na terceira estrofe, o leitor descobre que o poeta
(A) não gosta de doces.
(B) está apaixonado pela doceira.
(C) tem conhecimentos de culinária.
(D) se preocupa com o excesso de açúcar.
- A palavra “doce” **não** significa “alimento que contém açúcar” em
(A) “Doce, oh doce senhora!”
(B) “Qual é o doce mais doce?”
(C) “Pingos de chuva, algodão doce”.
(D) “Olho de sogra, doce de abóbora”.
- Depois de ler o texto 1, você decidiu organizar um livro com as receitas dos seguintes petiscos: pão de queijo, mil-folhas, geleia, pastéis Santa Clara, rocambolé, nozes.
As palavras **estão em ordem alfabética** em
(A) geleia, mil-folhas, nozes, pão de queijo, pastéis Santa Clara, rocambolé.
(B) mil-folhas, nozes, pão de queijo, pastéis Santa Clara, rocambolé, geleia.
(C) geleia, mil-folhas, nozes, pastéis Santa Clara, pão de queijo, rocambolé.
(D) nozes, geleia, mil-folhas, rocambolé, pastéis Santa Clara, pão de queijo.

Histórias do Marajó

Todo mundo tem certa curiosidade de conhecer o Marajó ou, pelo menos, de saber mais sobre essa imensa ilha localizada na costa do Pará, famosa pela criação de búfalos e sua cultura ancestral. Os povos antigos que ali habitaram nos deixaram a cerâmica mais bela que se conhece no Brasil e muito admirada em todo o mundo. Mas hoje vou escrever sobre outro tesouro marajoara: o Museu do Marajó, já ouviu falar?

Foi um padre italiano, Giovanni Gallo, quem teve a iniciativa de montá-lo. Quando foi inaugurado, em 1987, na cidade de Cachoeira do Arari, o museu trouxe muita esperança de que se tornaria um polo de atração para os turistas. As palavras do padre Gallo já diziam: “A nossa preocupação não é recolher objetos, mas sim cultura”. É isso mesmo que pode ser visto nas centenas de peças interativas, que nos ajudam a pensar o modo de vida do caboclo marajoara e suas múltiplas adaptações a esse ambiente. [...]

Disponível em: <http://chc.cienciahoje.uol.com.br/historias-do-marajo/>
Acesso em: 04 set. 2015.

6. O texto traz, sobretudo, informações a respeito do(a)
- (A) costa do Pará.
 - (B) Museu do Marajó.
 - (C) caboclo marajoara.
 - (D) cidade de Cachoeira do Arari.
7. No trecho “um padre italiano, Giovanni Gallo, quem teve a iniciativa de montá-lo. [...] em 1987, na cidade de Cachoeira do Arari”, as palavras foram escritas com iniciais maiúsculas porque se trata, respectivamente, de
- (A) nomes de lugar e de pessoa.
 - (B) nomes de pessoa e de lugar.
 - (C) nomes de instituição e de lugar.
 - (D) título de obra e nome de pessoa.
8. Em “Os povos antigos que ali habitaram”, a palavra destacada refere-se ao (à)
- (A) Pará.
 - (B) Brasil.
 - (C) ilha do Marajó.
 - (D) Museu do Marajó.
9. A palavra que está no masculino é
- (A) cultura.
 - (B) cerâmica.
 - (C) ambiente.
 - (D) curiosidade.
10. Uma “cultura ancestral” significa uma cultura
- (A) curiosa.
 - (B) antiga.
 - (C) familiar.
 - (D) distante.

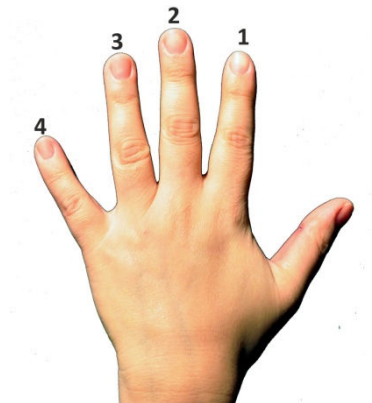
RASCUNHO

MATEMÁTICA

11. Uma viagem de barco demorou dois dias e meio, o que corresponde a


- (A) 48 horas.
- (B) 60 horas.
- (C) 64 horas.
- (D) 90 horas.

12. O maior dos dedos da mão abaixo é o de número



- (A) 4.
- (B) 3.
- (C) 2.
- (D) 1.

13. O relógio que marca duas horas é o da alternativa



(A)



(B)




(C)



(D)

RASCUNHO

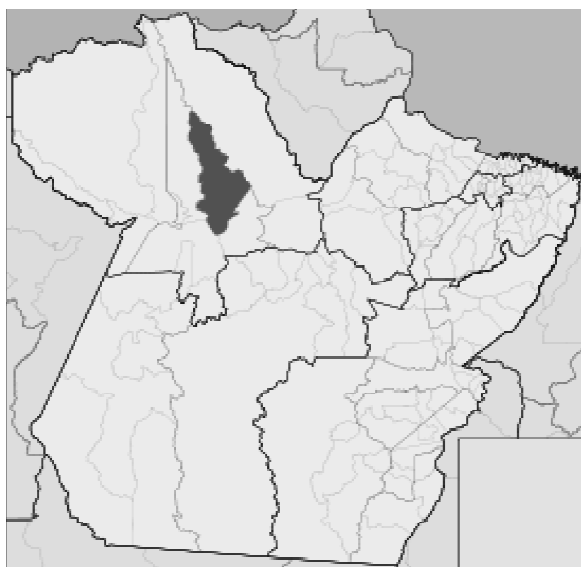
14. O quadro abaixo apresenta quatro pontos turísticos de Monte Alegre: Pedra do Pilão, cavernas, cachoeiras e pinturas arqueológicas.



- Para quem olha, a pedra do Pilão situa-se no canto

- (A) inferior direito.
- (B) inferior esquerdo.
- (C) superior esquerdo.
- (D) superior direito.

15. O mapa do município de Monte Alegre, destaque escuro do Estado do Pará, abaixo, tem uma forma que se aproxima à de um



- (A) retângulo.
- (B) losango.
- (C) quadrado.
- (D) triângulo.

16. Em abril, um comerciante apurou R\$ 800,00 em vendas; em maio, o dobro desse valor; e em junho, o dobro do apurado em maio. O total das suas vendas nesses três meses foi de

- (A) R\$ 5.800,00.
- (B) R\$ 5.600,00.
- (C) R\$ 5.400,00.
- (D) R\$ 5.200,00.

Utilize os dados abaixo para as próximas duas questões.

Um pai deu ao seu filho as seguintes cédulas e moedas



17. As moedas totalizaram

- (A) R\$ 1,75.
- (B) R\$ 2,25.
- (C) R\$ 2,50.
- (D) R\$ 2,75.

18. Do valor total, para completar R\$ 200,00 faltaram

- (A) R\$ 17,25.
- (B) R\$ 17,75.
- (C) R\$ 18,75.
- (D) R\$ 18,25.

19. Seja a adição abaixo, onde X e Y são números naturais

$$\begin{array}{r}
 3 \quad 2 \quad 7 \quad 1 \quad + \\
 5 \quad Y \quad 1 \quad X \\
 \hline
 8 \quad 6 \quad 8 \quad 7
 \end{array}$$

- O valor de $X - Y$ é igual a

- (A) 10.
- (B) 8.
- (C) 4.
- (D) 2.

20. Um mês pode ter

- (A) 4 semanas completas.
- (B) 32 dias.
- (C) mais de 5 semanas completas.
- (D) 800 horas.

RASCUNHO